

Series : RPQ3S



SET~1

प्रश्न-पत्र कोड
Q.P. Code

59/3/1

रोल नं.

Roll No.

--	--	--	--	--	--	--	--

परीक्षार्थी प्रश्न-पत्र कोड को उत्तर-पुस्तिका के मुख-पृष्ठ पर अवश्य लिखें।
Candidates must write the Q.P. Code on the title page of the answer-book.

नोट	NOTE
(I) कृपया जाँच कर लें कि इस प्रश्न-पत्र में मुद्रित पृष्ठ 19 हैं।	(I) Please check that this question paper contains 19 printed pages.
(II) प्रश्न-पत्र में दाहिने हाथ की ओर दिए गए प्रश्न-पत्र कोड को परीक्षार्थी उत्तर-पुस्तिका के मुख-पृष्ठ पर लिखें।	(II) Q.P. Code given on the right hand side of the question paper should be written on the title page of the answer-book by the candidate.
(III) कृपया जाँच कर लें कि इस प्रश्न-पत्र में 30 प्रश्न हैं।	(III) Please check that this question paper contains 30 questions.
(IV) कृपया प्रश्न का उत्तर लिखना शुरू करने से पहले, उत्तर-पुस्तिका में यथा स्थान पर प्रश्न का क्रमांक अवश्य लिखें। []	(IV) Please write down the Serial Number of the question in the answer-book at the given place before attempting it.
(V) इस प्रश्न-पत्र को पढ़ने के लिए 15 मिनट का समय दिया गया है। प्रश्न-पत्र का वितरण पूर्वाह्न में 10.15 बजे किया जाएगा। 10.15 बजे से 10.30 बजे तक परीक्षार्थी केवल प्रश्न-पत्र को पढ़ेंगे और इस अवधि के दौरान वे उत्तर-पुस्तिका पर कोई उत्तर नहीं लिखेंगे।	(V) 15 minute time has been allotted to read this question paper. The question paper will be distributed at 10.15 a.m. From 10.15 a.m. to 10.30 a.m., the candidates will read the question paper only and will not write any answer on the answer-book during this period.



राजनीति विज्ञान
POLITICAL SCIENCE



निर्धारित समय : 3 घण्टे

Time allowed : 3 hours

अधिकतम अंक : 80

Maximum Marks : 80

^59/3/1^



सामान्य निर्देश :

निम्नलिखित निर्देशों को बहुत सावधानी से पढ़िए और उनका पालन कीजिए :

- (i) इस प्रश्न-पत्र में 30 प्रश्न हैं। सभी प्रश्न अनिवार्य हैं।
- (ii) प्रश्न-पत्र पाँच खण्डों में विभाजित है – खण्ड क, ख, ग, घ एवं ङ।
- (iii) खण्ड क – प्रश्न संख्या 1 से 12 तक बहुविकल्पीय प्रकार के प्रश्न हैं। प्रत्येक प्रश्न 1 अंक का है।
- (iv) खण्ड ख – प्रश्न संख्या 13 से 18 तक लघु-उत्तरीय प्रकार के प्रश्न हैं। प्रत्येक प्रश्न 2 अंकों का है। प्रत्येक प्रश्न का उत्तर 50 से 60 शब्दों में लिखिए।
- (v) खण्ड ग – प्रश्न संख्या 19 से 23 तक दीर्घ-उत्तरीय प्रकार-I के प्रश्न हैं। प्रत्येक प्रश्न 4 अंकों का है। प्रत्येक प्रश्न का उत्तर 100 से 120 शब्दों में लिखिए।
- (vi) खण्ड घ – प्रश्न संख्या 24 से 26 अवतरण, कार्टून तथा मानचित्र-आधारित प्रश्न हैं। प्रत्येक प्रश्न 4 अंकों का है। प्रत्येक प्रश्न का उत्तर यथानुसार लिखिए।
- (vii) खण्ड ङ – प्रश्न संख्या 27 से 30 तक दीर्घ-उत्तरीय प्रकार-II के प्रश्न हैं। प्रत्येक प्रश्न 6 अंकों का है। प्रत्येक प्रश्न का उत्तर 170 से 180 शब्दों में लिखिए।
- (viii) प्रश्न-पत्र में कोई समग्र विकल्प नहीं है। यद्यपि, कुछ प्रश्नों में आंतरिक विकल्प का प्रावधान दिया गया है। इन प्रश्नों में से केवल एक ही प्रश्न का उत्तर लिखा जाए।
- (ix) इसके अतिरिक्त, ध्यान दें कि दृष्टिबाधित परीक्षार्थियों के लिए फोटो तथा मानचित्र आदि आधारित प्रश्नों के स्थान पर एक अन्य प्रश्न दिया गया है। इन प्रश्नों के उत्तर केवल दृष्टिबाधित परीक्षार्थी ही लिखें।

खण्ड क

प्रश्न संख्या 1 से 12 तक बहुविकल्पीय प्रकार के प्रश्न हैं। प्रत्येक प्रश्न 1 अंक का है।

12×1=12

1. नीचे दो कथन दिए गए हैं :

कथन I : विश्व बैंक की स्थापना द्वितीय विश्व युद्ध के बाद वर्ष 1945 में हुई थी।

कथन II : विश्व बैंक की गतिविधियों का ध्यान विकासशील देशों पर केन्द्रित है।

उपर्युक्त कथनों के आलोक में, नीचे दिए गए विकल्पों में से सही उत्तर चुनिए :

- (A) कथन I और कथन II दोनों सत्य हैं।
- (B) कथन I और कथन II दोनों असत्य हैं।
- (C) कथन I सत्य है, परंतु कथन II असत्य है।
- (D) कथन I असत्य है, परंतु कथन II सत्य है।





General Instructions :

Read the following instructions very carefully and follow them :

- (i) This question paper contains **30** questions. **All** questions are **compulsory**.
- (ii) Question paper is divided into **five** sections – **Sections A, B, C, D and E**.
- (iii) **Section A** – Questions number **1** to **12** are Multiple Choice type questions. Each question carries **1** mark.
- (iv) **Section B** – Questions number **13** to **18** are Short Answer type questions. Each question carries **2** marks. Write answer to each question in **50** to **60** words.
- (v) **Section C** – Questions number **19** to **23** are Long Answer type-I questions. Each question carries **4** marks. Write answer to each question in **100** to **120** words.
- (vi) **Section D** – Questions number **24** to **26** are Passage, Cartoon and Map-based questions. Each question carries **4** marks. Answer each question accordingly.
- (vii) **Section E** – Questions number **27** to **30** are Long Answer type-II questions. Each question carries **6** marks. Write answer to each question in **170** to **180** words.
- (viii) There is no overall choice in the question paper. However, an internal choice has been provided in few questions. Only **one** of the choices in such questions has to be attempted.
- (ix) In addition to this, **NOTE** that a separate question has been provided for Visually Impaired candidates in lieu of questions having visual inputs, map etc. Such questions are to be attempted by Visually Impaired candidates only.

SECTION A

Questions number **1** to **12** are Multiple Choice type questions. Each question carries **1** mark.

$12 \times 1 = 12$

1. Given below are two statements :

Statement I : The World Bank was created after the Second World War in the year 1945.

Statement II : The activities of the World Bank are focused on the developing countries.

In the light of above statements, choose the correct answer from the options given below :

- (A) Both Statement I and Statement II are true.
- (B) Both Statement I and Statement II are false.
- (C) Statement I is true, but Statement II is false.
- (D) Statement I is false, but Statement II is true.





2. 'क्योटो प्रोटोकॉल' का मुख्य उद्देश्य निम्नलिखित में से क्या था ?
- (A) ग्रीनहाउस गैसों के उत्सर्जन को कम करना ।
- (B) प्रदूषण को कम करने के लिए वन आवरण को बढ़ाना ।
- (C) पर्यावरण प्रदूषण को नियंत्रित करने के लिए विकासशील देशों को अनुदान-सहायता प्रदान करना ।
- (D) सतत विकास को बढ़ावा देना ।

3. 'सतत विकास' की अवधारणा निम्नलिखित में से किस एक पर जोर देती है ?

- (A) मानव विकास के लिए संसाधनों का अधिकतम उपयोग करना
- (B) किसी देश के सकल घरेलू उत्पाद (जीडीपी) को बढ़ाना
- (C) आर्थिक विकास को पारिस्थितिक उत्तरदायित्व से जोड़ना
- (D) पर्यावरण संरक्षण के लिए किए जाने वाले प्रयासों में वृद्धि करना

4. सूची-I में दिए गए राज्यों का सूची-II में दिए गए उन राज्यों से सही मिलान कीजिए जिनसे अलग करके इन्हें बनाया गया था । नीचे दिए गए कूट से सही उत्तर चुनिए :

सूची-I	सूची-II
1. गुजरात	(i) असम
2. हरियाणा	(ii) बॉम्बे
3. मेघालय	(iii) मध्य प्रदेश
4. छत्तीसगढ़	(iv) पंजाब

कूट :

- (A) 1-(i), 2-(iii), 3-(iv), 4-(ii) (B) 1-(ii), 2-(iv), 3-(i), 4-(iii)
- (C) 1-(iii), 2-(iv), 3-(i), 4-(ii) (D) 1-(ii), 2-(i), 3-(iv), 4-(iii)

5. नीचे दो कथन दिए गए हैं, जिनमें एक को अभिकथन (A) तथा दूसरे को कारण (R) के रूप में अंकित किया गया है । इन कथनों को पढ़िए और नीचे दिए गए विकल्पों में से सही उत्तर चुनिए :

अभिकथन (A) : यूरोपीय संघ का अपना ध्वज, राष्ट्रगान, अपनी स्थापना तिथि और मुद्रा है ।

कारण (R) : समकालीन विश्व में यूरोपीय संघ का आर्थिक, राजनीतिक और सैन्य क्षेत्रों में बहुत प्रभाव है ।

विकल्प :

- (A) अभिकथन (A) और कारण (R) दोनों सही हैं और कारण (R), अभिकथन (A) की सही व्याख्या करता है ।
- (B) अभिकथन (A) और कारण (R) दोनों सही हैं, परंतु कारण (R), अभिकथन (A) की सही व्याख्या नहीं करता है ।
- (C) अभिकथन (A) ग़लत है, परंतु कारण (R) सही है ।
- (D) अभिकथन (A) सही है, परंतु कारण (R) ग़लत है ।





2. The major objective of 'Kyoto Protocol' was :
 - (A) to reduce greenhouse gas emissions.
 - (B) to reduce pollution by increasing forest cover.
 - (C) to provide grant-in-aid to the developing nations to control environmental pollution.
 - (D) to promote sustainable development.
3. The concept of 'sustainable development' emphasises on :
 - (A) utilizing maximum resources for human development.
 - (B) increasing Gross Domestic Product (GDP) of a country.
 - (C) combining economic growth with ecological responsibility.
 - (D) maximising the efforts for environmental conservation.
4. Match the States given in List-I with the States from which these were carved out given in List-II correctly. Choose the correct answer from the codes given below :

List-I

List-II

- | | |
|-----------------|----------------------|
| 1. Gujarat | (i) Assam |
| 2. Haryana | (ii) Bombay |
| 3. Meghalaya | (iii) Madhya Pradesh |
| 4. Chhattisgarh | (iv) Punjab |

Codes :

- | | |
|------------------------------------|------------------------------------|
| (A) 1-(i), 2-(iii), 3-(iv), 4-(ii) | (B) 1-(ii), 2-(iv), 3-(i), 4-(iii) |
| (C) 1-(iii), 2-(iv), 3-(i), 4-(ii) | (D) 1-(ii), 2-(i), 3-(iv), 4-(iii) |
5. Given below are two statements, one is labelled as Assertion (A) and other as Reason (R). Read these statements and choose the correct answer from the given below options :

Assertion (A) : The European Union has its own flag, anthem, founding date and currency.

Reason (R) : The European Union has a major influence on the economic, political and military fields in the contemporary world.

Options :

- (A) Both Assertion (A) and Reason (R) are true and Reason (R) is the correct explanation of the Assertion (A).
- (B) Both Assertion (A) and Reason (R) are true, but Reason (R) is **not** the correct explanation of the Assertion (A).
- (C) Assertion (A) is false, but Reason (R) is true.
- (D) Assertion (A) is true, but Reason (R) is false.





6. 1953 में राज्य पुनर्गठन आयोग को किस लिए नियुक्त किया गया था ?
- (A) प्रशासनिक कार्यकुशलता को सुनिश्चित करने के लिए
(B) औपनिवेशिक शासन के दौरान निर्धारित प्रांतों की सीमाओं से संबंधित जटिलताओं को समाप्त करने के लिए
(C) राष्ट्र निर्माण की प्रक्रिया को सुनिश्चित करने के लिए
(D) भाषा के आधार पर राज्यों की सीमाओं का सीमांकन करने के लिए
7. संयुक्त राष्ट्र सुरक्षा परिषद में भारत की स्थायी सदस्यता से संबंधित दावेदारी के समर्थन के लिए निम्नलिखित में से सर्वश्रेष्ठ तर्क को चुनिए :
- (A) भारत की बढ़ती आर्थिक शक्ति और स्थिर राजनीतिक व्यवस्था
(B) भारत का कुशल नेतृत्व
(C) भारत की संयुक्त राष्ट्र संघ में इसकी स्थापना से ही सदस्यता
(D) भारत का संयुक्त राष्ट्र संघ के बजट में योगदान देने वाला सदस्य देश होना
8. निम्नलिखित घटनाओं को कालक्रमानुसार व्यवस्थित कीजिए :
- (i) चीन द्वारा परमाणु परीक्षण करना
(ii) भारत द्वारा प्रथम परमाणु विस्फोट करना
(iii) परमाणु अप्रसार संधि का लागू होना
(iv) भारत में होमी जहाँगीर भाभा के निर्देशन में परमाणु कार्यक्रम को प्रारंभ किया जाना
- सही विकल्प चुनिए :
- (A) (ii), (iii), (i), (iv) (B) (iv), (i), (iii), (ii)
(C) (i), (iii), (iv), (ii) (D) (iv), (iii), (ii), (i)
9. कौन-से वर्ष भारत के सबसे बड़े सार्वजनिक क्षेत्र के उद्यम रेलवे ने हड़ताल की थी ?
- (A) 1974 (B) 1973
(C) 1972 (D) 1971
10. निम्नलिखित में से कौन-सा निर्णय 24 जून, 1975 को सर्वोच्च न्यायालय ने इंदिरा गाँधी के केस के मामले में दिया था ?
- (A) इंदिरा गाँधी का निर्वाचन अवैधानिक था ।
(B) इंदिरा गाँधी ने संविधान के 'बुनियादी ढाँचे' की अवधारणा के खिलाफ अपने चुनाव अभियान में सरकारी कर्मचारियों की सेवाओं का उपयोग किया ।
(C) इंदिरा गाँधी को तुरंत अपने पद से त्याग-पत्र देने का आदेश दिया गया ।
(D) इंदिरा गाँधी के मामले में उच्च न्यायालय द्वारा दिए गए फैसले पर आंशिक स्थगनादेश सुनाया गया, जिससे वह संसद सदस्य बनी रह सकेंगी, परंतु लोक सभा की कार्यवाहियों में भाग नहीं ले पाएँगी ।





6. The States Reorganisation Commission was appointed in 1953 :
- to ensure administrative efficiency.
 - to end complexities regarding demarcation of the provinces' boundaries during colonial rule.
 - to ensure process of nation building.
 - for demarcation of states' boundaries on the basis of language.
7. Choose the best argument to support India's claim for permanent membership in the United Nations Security Council :
- India's growing economic power and stable political system
 - India's effective leadership
 - India's membership in the United Nations Organization since its inception
 - India as the contributing member country in the United Nations Organisation's budget
8. Arrange the following events in a chronological order :
- Atomic test conducted by China
 - First nuclear explosion conducted by India
 - Implementation of Nuclear Non-Proliferation Treaty
 - Initiation of the atomic programme in India under the guidance of Homi Jehangir Bhabha
- Choose the correct option :
- | | |
|----------------------------|----------------------------|
| (A) (ii), (iii), (i), (iv) | (B) (iv), (i), (iii), (ii) |
| (C) (i), (iii), (iv), (ii) | (D) (iv), (iii), (ii), (i) |
9. In which year did the largest public sector undertaking, Railways, go on a strike ?
- | | |
|----------|----------|
| (A) 1974 | (B) 1973 |
| (C) 1972 | (D) 1971 |
10. Which one of the following was the decision of the Supreme Court given on 24 June, 1975 about the Indira Gandhi case ?
- Election of Indira Gandhi was invalid.
 - Indira Gandhi used the services of the government officials in her election campaign which is against the concept of 'basic structure' of the Constitution.
 - Indira Gandhi was ordered to resign from her post immediately.
 - Indira Gandhi was granted a partial stay on the High Court order, allowing her to remain a member of the Parliament, but could not take part in the Lok Sabha proceedings.





11. निम्नलिखित में से कौन-सा देश आसियान का संस्थापक **नहीं** था ?
 (A) सिंगापुर (B) इंडोनेशिया
 (C) चीन (D) थाईलैंड
12. गुट-निरपेक्ष आंदोलन (NAM) का पहला सम्मेलन किस शहर में हुआ था ?
 (A) बेलग्रेड
 (B) बांडुंग
 (C) टोक्यो
 (D) दिल्ली

खण्ड ख

13. सोवियत संघ के किन्हीं चार गणराज्यों के नाम लिखिए। $4 \times \frac{1}{2} = 2$
14. “कुछ समूहों द्वारा वैश्वीकरण का विरोध किए जाने के बावजूद भी यह भारत की अर्थव्यवस्था के लिए वरदान साबित हुआ है।” इस कथन की पुष्टि कीजिए। 2
15. प्रथम पंचवर्षीय योजना और द्वितीय पंचवर्षीय योजना के मध्य किन्हीं दो मूलभूत अंतरों को उजागर कीजिए। $2 \times 1 = 2$
16. 1975 में राष्ट्रीय आपातकाल घोषित करने के लिए तत्कालीन सरकार ने कौन-से दो कारण दिए थे ? $2 \times 1 = 2$
17. विश्व में वैश्वीकरण को तीव्रता से बढ़ावा देने में सूचना प्रौद्योगिकी किस प्रकार उत्तरदायी है ? दो उदाहरणों से स्पष्ट कीजिए। $2 \times 1 = 2$
18. 2014 के आम चुनाव के बाद केंद्र की गठबंधन सरकारों के स्वरूप में आए परिवर्तन के लिए उत्तरदायी किन्हीं दो कारकों का विश्लेषण कीजिए। $2 \times 1 = 2$

खण्ड ग

19. औपनिवेशिक शासन की समाप्ति के पश्चात् भाषा के आधार पर राज्यों के पुनर्गठन से संबंधित भारत सरकार की किन्हीं दो मुख्य चिंताओं की व्याख्या कीजिए। $2 \times 2 = 4$
20. सोवियत संघ के विघटन के बाद शॉक थेरेपी के किन्हीं चार प्रभावों को उजागर कीजिए। $4 \times 1 = 4$
21. स्वतंत्रता के बाद भारत में प्रथम आम चुनाव को कराने से पूर्व चुनाव आयोग के समक्ष आई किन्हीं दो प्रमुख चुनौतियों का विश्लेषण कीजिए। $2 \times 2 = 4$





11. Which one of the following countries was **not** a founder of ASEAN ?
 (A) Singapore (B) Indonesia
 (C) China (D) Thailand
12. In which city was the first Summit of the Non-Aligned Movement (NAM) held ?
 (A) Belgrade
 (B) Bandung
 (C) Tokyo
 (D) Delhi

SECTION B

13. Name any four republics of the Soviet Union. $4 \times \frac{1}{2} = 2$
14. "Globalization has been a boon for the economy of India despite the resistance shown by certain groups." Support the statement. 2
15. Highlight any two fundamental differences between the First Five Year Plan and the Second Five Year Plan. $2 \times 1 = 2$
16. Which two reasons were given by the Government for declaring the National Emergency in 1975 ? $2 \times 1 = 2$
17. How has Information Technology been responsible in accelerating globalization across the world ? Explain with two examples. $2 \times 1 = 2$
18. Analyse any two factors responsible for the change in the nature of coalition governments at the Centre after the General Elections of 2014. $2 \times 1 = 2$

SECTION C

19. Explain any two major concerns of Indian government regarding the reorganisation of states on the basis of language after the end of colonial rule. $2 \times 2 = 4$
20. Highlight any four effects of the shock therapy after the disintegration of the Soviet Union. $4 \times 1 = 4$
21. Analyse any two major challenges faced by the Election Commission before conducting the first General Elections in India after independence. $2 \times 2 = 4$





22. (क) “संयुक्त राष्ट्र संघ को मानवता की शांति और उन्नति के लिए एक बड़ी आशा के रूप में सामान्यतः देखा जाता है।” दो तर्कों से इस कथन की पुष्टि कीजिए। 2×2=4

अथवा

- (ख) वर्तमान परिदृश्य में संयुक्त राष्ट्र संघ को अधिक प्रासंगिक बनाने के लिए कोई चार उपाय सुझाइए। 4×1=4

23. (क) पर्यावरण की रक्षा के लिए किए गए वैश्विक प्रयास अपेक्षित रूप से सफल क्यों नहीं हुए ? कारणों का विश्लेषण कीजिए। 4

अथवा

- (ख) विकसित और विकासशील देशों के द्वारा रियो घोषणा-पत्र के उद्देश्यों को प्राप्त करने के लिए किए गए प्रयासों का मूल्यांकन कीजिए। 4

खण्ड घ

24. नीचे दिए गए अवतरण को ध्यानपूर्वक पढ़िए और इस पर आधारित प्रश्नों के उत्तर दीजिए : 4×1=4

भारत ने डच औपनिवेशिक शासन से इंडोनेशिया की शीघ्र स्वतंत्रता के लिए भरपूर प्रयास किए तथा उसके स्वतंत्रता संघर्ष को समर्थन देने के लिए 1949 में एक अंतर्राष्ट्रीय सम्मेलन का आयोजन किया। भारत अनौपनिवेशीकरण की प्रक्रिया का प्रबल समर्थक था और उसने पूरी दृढ़ता से नस्लवाद का, खासकर दक्षिण अफ्रीका में जारी रंगभेद का, विरोध किया। इंडोनेशिया के एक शहर बांडुंग में एफ्रो-एशियाई सम्मेलन 1955 में हुआ। आमतौर पर इसे बांडुंग सम्मेलन के नाम से जानते हैं। अफ्रीका और एशिया के नव-स्वतंत्र देशों के साथ भारत के बढ़ते संपर्क का यह चरम बिंदु था। बांडुंग सम्मेलन ने बाद में गुट-निरपेक्ष आंदोलन की स्थापना का मार्ग प्रशस्त किया।

- (i) एफ्रो-एशियाई एकता को साकार करने में किस भारतीय नेता ने महत्वपूर्ण भूमिका निभाई थी ?
- (A) सरदार वल्लभभाई पटेल
(B) जवाहरलाल नेहरू
(C) महात्मा गाँधी
(D) लाल बहादुर शास्त्री
- (ii) एफ्रो-एशियाई एकता किस वर्ष गुट-निरपेक्ष आंदोलन का प्रतीक बन गई ?
- (A) 1959 (B) 1960
(C) 1961 (D) 1962





22. (a) “The United Nations Organisation is generally regarded as the great hope of humanity for peace and progress.” Support the statement with two arguments. 2×2=4

OR

- (b) Suggest any four measures to make the United Nations Organisation more relevant in the current scenario. 4×1=4
23. (a) Why have the global efforts to protect the environment not been as successful as desired ? Analyse the reasons. 4

OR

- (b) Evaluate the efforts made to achieve the objectives of the Rio Declaration by the developed and developing countries. 4

SECTION D

24. Read the passage given below carefully and answer the questions based on it : 4×1=4

India made earnest efforts for the early realisation of freedom of Indonesia from the Dutch colonial regime by convening an international conference in 1949 to support its freedom struggle. India was a staunch supporter of the decolonisation process and firmly opposed racism, especially apartheid in South Africa. The Afro-Asian Conference held in the Indonesian city of Bandung in 1955, commonly known as the Bandung Conference, marked the zenith of India’s engagement with the newly independent Asian and African nations. The Bandung Conference later led to the establishment of the NAM.

- (i) Which Indian leader played an important role in manifesting the Afro-Asian unity ?
- (A) Sardar Vallabhbhai Patel
(B) Jawaharlal Nehru
(C) Mahatma Gandhi
(D) Lal Bahadur Shastri
- (ii) In which year did the Non-Alignment Movement become the symbol of Afro-Asian unity ?
- (A) 1959 (B) 1960
(C) 1961 (D) 1962






- (iii) एफ्रो-एशियाई एकता को सशक्त करने के पीछे मूल धारणा की पहचान कीजिए।
- (A) अमरीकी खेमे से आर्थिक सहायता प्राप्त करना
- (B) सोवियत संघ गुट को उसकी वैश्विक नीतियों को बढ़ावा देने में सहयोग करना
- (C) शीत युद्ध के दौर में सैन्य गठबंधन का निर्माण करना
- (D) अपनी स्वतंत्रता को बनाए रखने के लिए दोनों महाशक्तियों (अमरीका व सोवियत संघ) से दूरी बनाए रखना
- (iv) गुट-निरपेक्ष आंदोलन (NAM) का पहला सम्मेलन किस वर्ष में हुआ था ?
- (A) 1961 (B) 1962
- (C) 1963 (D) 1964

25. नीचे दिए गए कार्टून का ध्यानपूर्वक अध्ययन कीजिए और इस पर आधारित प्रश्नों के उत्तर दीजिए :

1+1+2=4



- (i) पूर्वी एशिया के किन्हीं दो देशों के नाम लिखिए। $\frac{1}{2} + \frac{1}{2} = 1$
- (ii) कार्टून में दर्शाए गए नेता को पहचानिए और उनका नाम लिखिए। 1
- (iii) कार्टून में दिए गए वाक्य “हमें इसकी आदत डालनी होगी” के अर्थ की व्याख्या कीजिए। 2

नोट : निम्नलिखित प्रश्न केवल दृष्टिबाधित परीक्षार्थियों के लिए प्रश्न संख्या 25 के स्थान पर हैं : 1+1+2=4

- (25.1) किसी एक ऐसे देश का नाम लिखिए जिसने ‘यूरो’ को अपनाने का विरोध किया। 1
- (25.2) यूरोपीय संघ के किन्हीं दो नए सदस्य देशों के नाम लिखिए। $\frac{1}{2} + \frac{1}{2} = 1$
- (25.3) आसियान क्षेत्रीय मंच (ARF) की स्थापना के कोई दो मुख्य उद्देश्य स्पष्ट कीजिए। 2





- (iii) Identify the main intention behind the strengthening Afro-Asian unity.
- (A) To gain economic support from the USA bloc
 (B) To co-operate with the USSR bloc in enhancing its global policies
 (C) To form military alliances in the era of Cold War
 (D) To maintain distance from both the superpowers (USA and USSR) in order to protect its freedom
- (iv) The first summit of the Non-Aligned Movement (NAM) was held in which year ?
- (A) 1961 (B) 1962
 (C) 1963 (D) 1964

25. Study the cartoon given below carefully and answer the questions based on it :

1+1+2=4



- (i) Name any two countries of East Asia. $\frac{1}{2} + \frac{1}{2} = 1$
- (ii) Identify and name the leader shown in the cartoon. 1
- (iii) Explain the meaning of the sentence given in the cartoon 'WE'LL HAVE TO GET USED TO IT'. 2

Note : The following questions are for the **Visually Impaired Candidates** only, in lieu of Q. No. 25 :

1+1+2=4

- (25.1) Name any one country which resisted the adoption of the 'Euro'. 1
- (25.2) Name any two new member countries of European Union. $\frac{1}{2} + \frac{1}{2} = 1$
- (25.3) Explain any two main objectives of establishing the ASEAN Regional Forum (ARF). 2





26. भारत के दिए गए राजनीतिक रेखा-मानचित्र (पृष्ठ 15 पर) में, चार राज्यों को (A), (B), (C) और (D) के रूप में अंकित किया गया है। नीचे दी गई जानकारी के आधार पर इन राज्यों की पहचान कीजिए और अपनी उत्तर-पुस्तिका में इनके सही नाम, प्रयोग की गई जानकारी की क्रम संख्या तथा मानचित्र में दिया गया संबंधित अक्षर, नीचे दी गई तालिका के रूप में लिखिए :

4×1=4

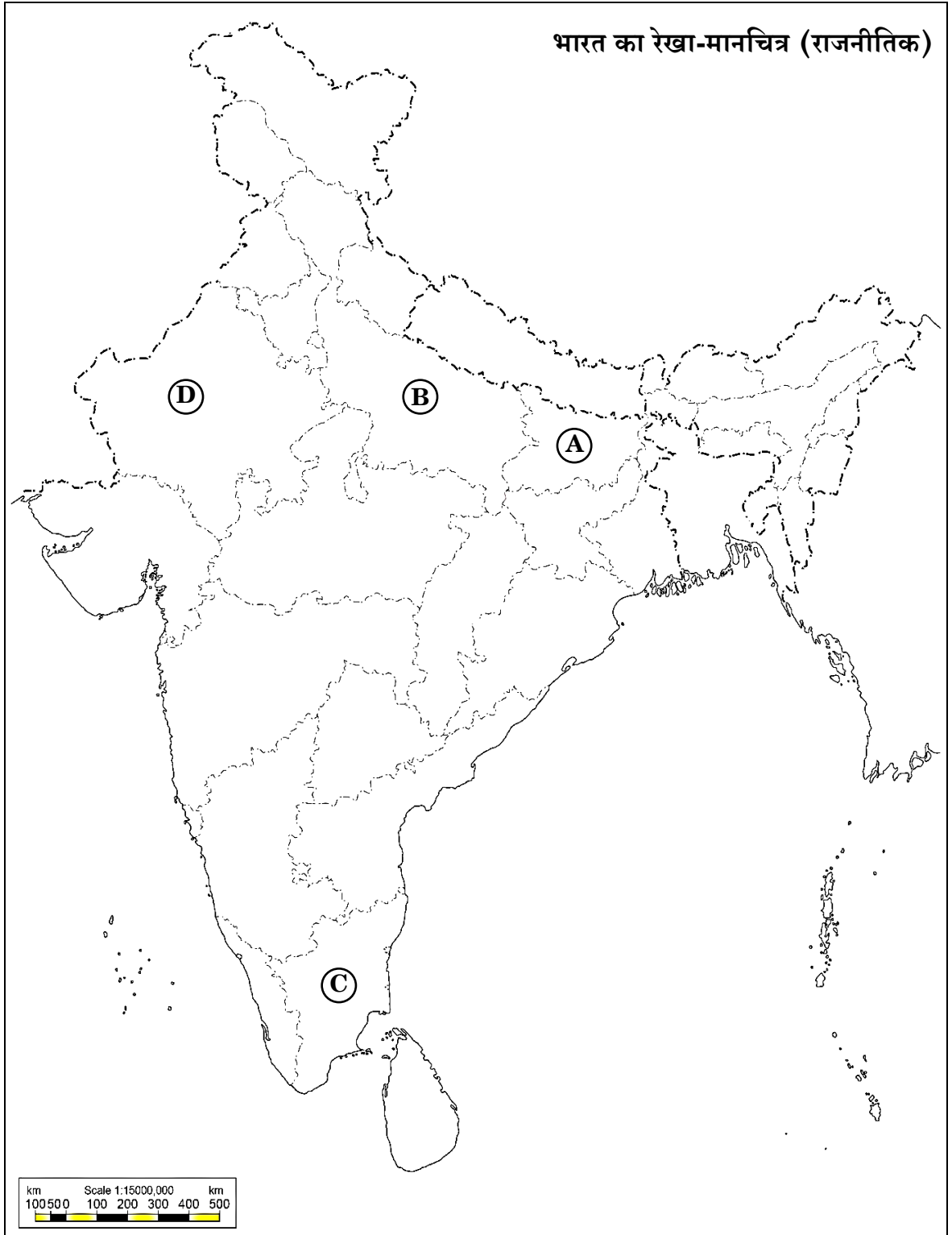
- (i) प्रधान मंत्री लाल बहादुर शास्त्री से संबंधित राज्य।
- (ii) वह राज्य जहाँ शिक्षा में उपस्थिति (पंजीयन) को बढ़ाने के लिए के. कामराज ने मिड-डे मील कार्यक्रम को प्रारम्भ किया।
- (iii) वह राज्य जहाँ 1967 के विधानसभा चुनावों में कांग्रेस पार्टी को बहुमत हासिल नहीं हुआ, परंतु उसने अन्य दलों के समर्थन से सरकार बनाई।
- (iv) वह राज्य जहाँ 1967 के विधानसभा चुनावों के बाद गैर-काँग्रेसी गठबंधन ने सरकार बनाई।

प्रयोग की गई जानकारी की क्रम संख्या	मानचित्र में दिया गया संबंधित अक्षर	राज्यों के नाम
(i)		
(ii)		
(iii)		
(iv)		





प्रश्न सं. 26 के लिए





26. In the given political outline map of **India** (on page 17), four States have been marked as Ⓐ, Ⓑ, Ⓒ and Ⓓ. Identify these States on the basis of the information given below and write their correct names in your answer-book along with their respective serial number of the information used and the concerned alphabet given in the map as per the following format : *4×1=4*

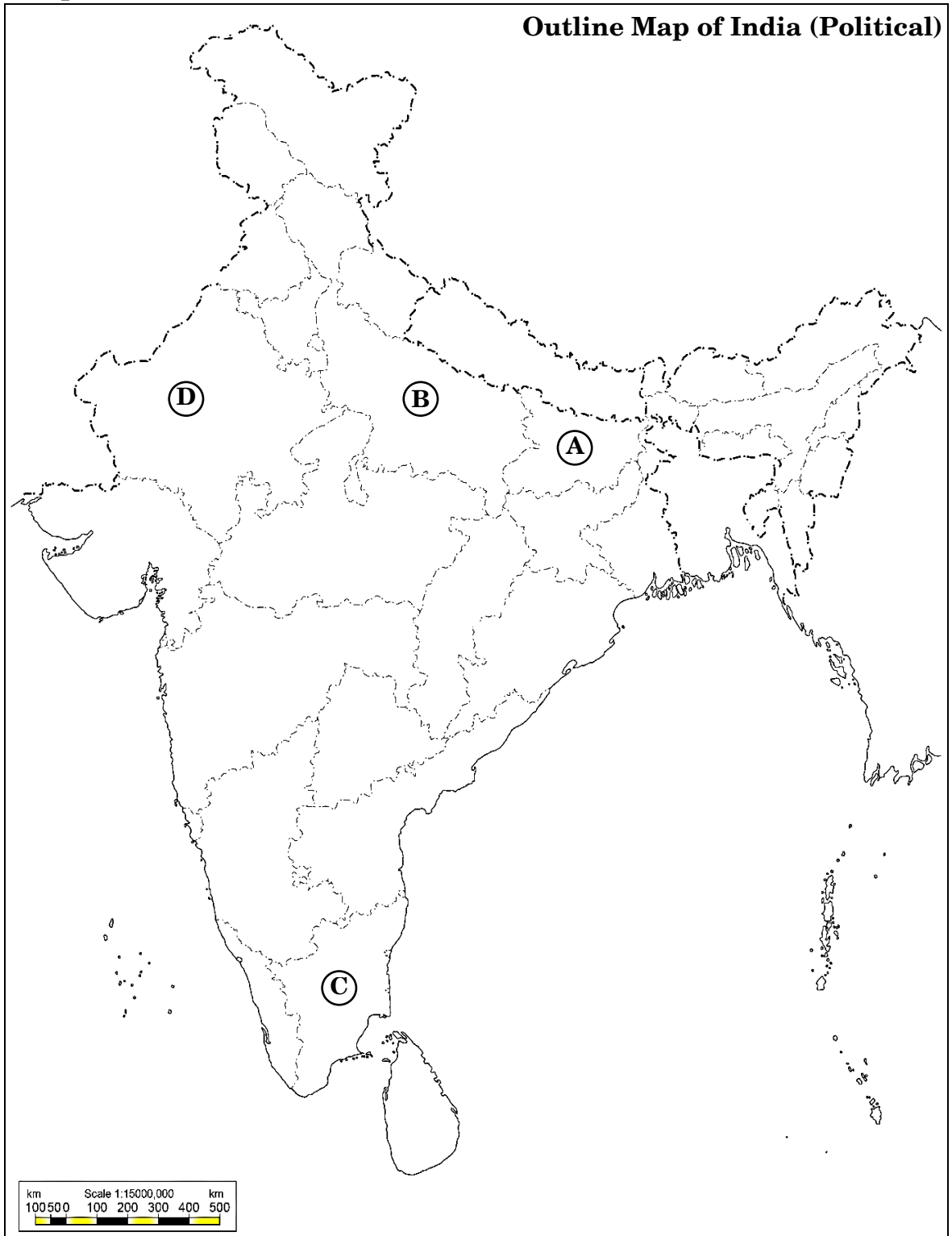
- (i) The state related to Prime Minister Lal Bahadur Shastri.
- (ii) The state for which K. Kamaraj initiated Mid-day Meal programme to increase enrolment in education.
- (iii) The state in which the Congress Party did not get majority in the Assembly Elections of 1967, but formed a government with the support of other parties.
- (iv) The state where Non-Congress coalition government was formed after the Assembly Elections of 1967.

Serial number of the information used	Concerned alphabet given in the map	Name of the States
(i)		
(ii)		
(iii)		
(iv)		





For question no. 26





नोट : निम्नलिखित प्रश्न केवल दृष्टिबाधित परीक्षार्थियों के लिए प्रश्न संख्या 26 के स्थान पर हैं : $4 \times 1 = 4$

- (26.1) लाल बहादुर शास्त्री द्वारा दिया गया प्रसिद्ध नारा लिखिए।
 (26.2) किस वर्ष काँग्रेस पार्टी में विभाजन हुआ ?
 (26.3) पंडित जवाहरलाल नेहरू के बाद भारत का दूसरा प्रधान मंत्री कौन बना था ?
 (26.4) 1963 में घोषित 'कामराज योजना' का वर्णन कीजिए।

खण्ड ड

27. (क) नेपाल में लोकतंत्र की स्थापना के लिए उत्तरदायी घटनाक्रम का वर्णन कीजिए। 6

अथवा

- (ख) बांग्लादेश में सैन्य सरकार की समाप्ति और लोकतंत्र की स्थापना के लिए उत्तरदायी घटनाक्रम का वर्णन कीजिए। 6

28. (क) पंजाब राज्य में शांति स्थापित करने के लिए पंजाब सरकार और भारत सरकार के प्रयासों की व्याख्या कीजिए। $3 \times 2 = 6$

अथवा

- (ख) भारत में पूर्वोत्तर राज्यों में स्वायत्तता की माँगों के लिए उत्तरदायी मुख्य कारकों की व्याख्या कीजिए। 6

29. (क) मंडल आयोग की सिफारिशें किस प्रकार अन्य पिछड़े वर्गों (OBCs) की समस्याओं का समाधान करने में सफल सिद्ध हुई ? विश्लेषण कीजिए। 6

अथवा

- (ख) क्षेत्रीय दलों द्वारा भारत में केंद्र में बनी विभिन्न गठबंधन की सरकारों को समर्थन देने के किन्हीं तीन आधारों की जाँच कीजिए। $3 \times 2 = 6$

30. (क) समकालीन विश्व में सुरक्षा की बाहरी और आंतरिक अवधारणाओं के बीच अंतर को उजागर कीजिए। 6

अथवा

- (ख) "सुरक्षा की गैर-पारंपरिक अवधारणा सुरक्षा की पारंपरिक अवधारणा की अपेक्षा अधिक व्यापक है।" उचित उदाहरणों की सहायता से इस कथन का समर्थन कीजिए। 6





Note : The following questions are for the **Visually Impaired Candidates** only, in lieu of Q. No. 26 : 4×1=4

- (26.1) State the famous slogan coined by Lal Bahadur Shastri.
- (26.2) In which year did the Congress Party split ?
- (26.3) Who was the second Prime Minister of India after Pt. Jawaharlal Nehru ?
- (26.4) Describe the 'Kamaraj Plan' of 1963.

SECTION E

- 27.** (a) Describe the sequence of events responsible for the establishment of democracy in Nepal. 6

OR

- (b) Describe the sequence of events responsible for the end of the military government and establishment of democracy in Bangladesh. 6

- 28.** (a) Explain the efforts of the Punjab government and the Indian government to foster peace in the State of Punjab. 3×2=6

OR

- (b) Explain the main factors responsible for the demands of autonomy by the north-eastern states in India. 6

- 29.** (a) How did the Mandal Commission recommendations prove to be an effort to solve the problems of Other Backward Classes (OBCs) ? Analyse. 6

OR

- (b) Examine any three grounds on which the regional parties support the various coalition governments formed at the Centre in India. 3×2=6

- 30.** (a) Highlight the differences between the external and internal notions of security in the contemporary world. 6

OR

- (b) "The non-traditional notions of security are more comprehensive than the traditional notions of security." Support the statement with the help of suitable examples. 6

